

Ответы: ВПР по географии 7 класс

1-3

1.1. Правильный ответ должен содержать следующие элементы:

- 1) указание путешественника: Генри Стэнли;
- 2) подпись названия материка на карте: Африка

1.2. А – Гвинейский залив

Б – Индийский океан

В – Мозамбикский пролив

1.3. Правильный ответ должен содержать два элемента:

- 1) координаты точки: 2° с. ш. 22° в. д. (допускается погрешность $\pm 1^\circ$);
- 2) название географического объекта: река Конго





2.1. Правильный ответ должен содержать три элемента:

- 1) значение параллели: 60° с. ш.;
- 2) протяжённость материка в градусах: 164° (допускается погрешность $\pm 2^\circ$);
- 3) протяжённость материка в километрах: 9151,2 км (допускается соответствующая погрешность в километрах)

2.2. Правильный ответ должен содержать следующие элементы:

- 1) указание формы рельефа: 1;
- 2) абсолютная высота территории: 1000 м

2.3. Правильный ответ должен содержать таблицу с внесёнными в неё значками полезных ископаемых:

Золото	Каменный уголь	Алмазы	Бурый уголь
			

3.1.1 – субэкваториальный

2 – арктический

3 – тропический

3.2. Правильный ответ должен содержать следующие элементы:

- 1) название природной зоны: саванны и редколесья;
- 2) номер климатограммы: 1

3.3. Правильный ответ должен содержать заполненную таблицу:

Средняя температура воздуха, °С		Годовая амплитуда температур, °С	Годовое количество осадков, мм	Месяц, на который приходится наибольшее количество осадков
в январе	в июле			
+18	+28	10	529	май

При определении температуры воздуха допускается погрешность $\pm 1^\circ\text{C}$. Если в ответе на задание 3.2 номер климатограммы не указан / указан неправильно, то результат выполнения данного задания не засчитывается.

4

4.1. извержение вулкана / вулканизм

4.2. 25413

Если за выполнение задания 4.1 выставлено 0 баллов, результат выполнения данного

задания не засчитывается

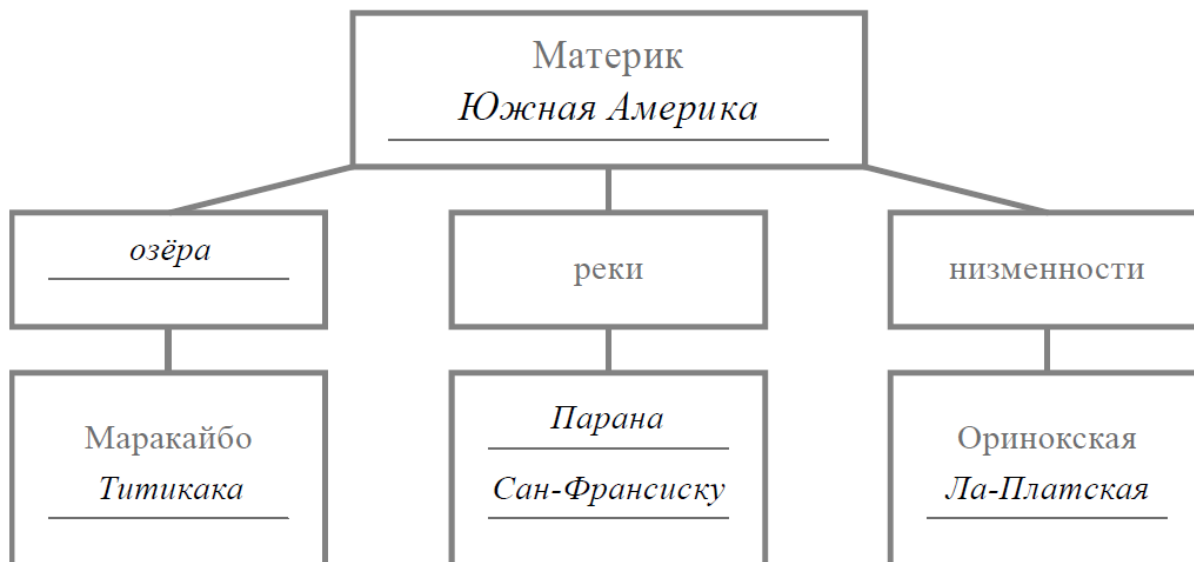
5

5.1.

А – 146 (в любой последовательности)

Б – 235 (в любой последовательности)

5.2. Правильный ответ должен содержать заполненную схему с вписанными в неё названием материка, типами и названиями географических объектов.



6

6.1. Правильный ответ должен содержать выделение на карте двух стран: Бразилии и Франции

6.2.



Время по Гринвичу
12:00 (полдень)



Париж
30 октября
13:00



Бразилиа
30 октября
09:00

Правильный ответ должен содержать подписи названий двух городов: Парижа (столицы Франции) и Бразилиа (столицы Бразилии)

6.3. 16:00

7

7.1. 3214

7.2. Великобритания

8

8.1. в Монголии

8.2. Правильный ответ должен содержать два элемента:

- 1) указание рисунка с контуром страны: А;
- 2) ответ на вопрос: пустыня Гоби.

Если за выполнение задания 8.1 выставлено 0 баллов, результат выполнения данного задания не засчитывается